




แบบฝึกมารู้จักจำนวนเลข 4

คำสั่ง จับคู่รูปภาพที่เหมือนกันและมีจำนวนเท่ากัน

1.




2.



3.



4.



5.





แบบฝึกมารู้จักจำนวนเลข 4

คำสั่ง ระบายสีช่องที่มีเลข 4

4	2	5	3
1	4	5	2
3	4	2	5
5	3	4	2
3	4	2	5





แบบฝึกมารู้จักจำนวนเลข 4

คำสั่ง นับจำนวนผลไม้และเขียนตัวเลข 4




เขียนเลข 4

4 4 4 4 4 4 4

4 4 4 4 4 4 4

วงกลมรูปภาพที่มีจำนวนเท่ากับ 4





แบบฝึกมารู้จักจำนวนเลข 4

คำสั่ง นับจำนวนแล้วเติมตัวเลขให้ถูกต้อง

1.





2.




3.




4.




5.







มาฝึกเขียนเลข 4 ตามเส้นประกันนะ

4	4	4	4	4	4	4	4	4	4	4	4
4	4	4	4	4	4	4	4	4	4	4	4
4	4	4	4	4	4	4	4	4	4	4	4
4	4	4	4	4	4	4	4	4	4	4	4
4	4	4	4	4	4	4	4	4	4	4	4
4	4	4	4	4	4	4	4	4	4	4	4
4	4	4	4	4	4	4	4	4	4	4	4
4	4	4	4	4	4	4	4	4	4	4	4
4	4	4	4	4	4	4	4	4	4	4	4

